

PLANO DE AULA DE INFORMÁTICA:

CENTRO MUNICIPAL DE EDUCAÇÃO INFANTIL PEDACINHO DO CÉU

PROFESSOR: ANDRÉ NEUMANN

TURMA: PRÉ II

DATA: 15/07/2020

MODALIDADE: EDUCAÇÃO INFANTIL

FAIXAS ETÁRIAS (BNCC): 4 ANOS A 5 ANOS E 11 MESES

CAMPO DE EXPERIÊNCIA: “ESPAÇOS, TEMPOS, QUANTIDADES, RELAÇÕES E TRANSFORMAÇÕES”

OBJETIVOS DE APRENDIZAGEM E DESENVOLVIMENTO:

(EI03ET04). REGISTRAR OBSERVAÇÕES, MANIPULAÇÕES E MEDIDAS, USANDO MÚLTIPLAS LINGUAGENS (DESENHO, REGISTRO POR NÚMEROS OU ESCRITA ESPONTÂNEA), EM DIFERENTES SUPORTES.

(EI03ET07). RELACIONAR NÚMEROS ÀS SUAS RESPECTIVAS QUANTIDADES E IDENTIFICAR O ANTES, O DEPOIS E O ENTRE EM UMA SEQUÊNCIA.

DESENVOLVIMENTO DA AULA

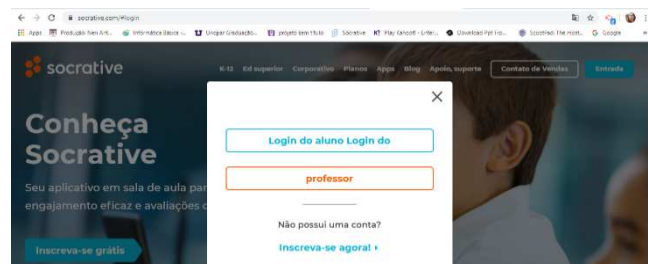
SÃO MUITAS COISAS LEGAIS NAS FESTAS JUNINAS OU JULINAS, E TODO MUNDO GOSTA. NA ATIVIDADE DE HOJE NÓS VAMOS VER SE SABEMOS CONTAR OS OBJETOS DE FESTAS. PRESTE ATENÇÃO E CONTE COM CALMA. SE DIVIRTA JOGANDO O QUIZ. “VAMOS CONTAR? FESTA JUNINA”



PARA INICIAR VOCÊ PRECISA ACESSAR: WWW.SOCRATIVE.COM



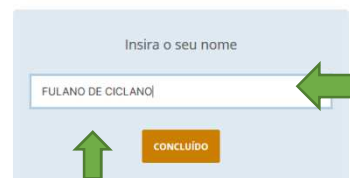
CLIQUE EM LOGIN



FAÇA O LOGIN COMO ALUNO



COLOQUE O NOME DA SALA: **PROFANDRE**




NOME COMPLETO DO ALUNO



INICIE O QUIZ

AVALIAÇÃO: OS ALUNOS SERÃO AVALIADOS PERANTE A PARTICIPAÇÃO E REALIZAÇÃO DA ATIVIDADE. **OBS: A PARTICIPAÇÃO ATRAVÉS DO SOCRATIVE, FICA REGISTRADO PARA O PROFESSOR, NÃO PRECISA ESTAR ENVIANDO FOTO.**

ATIVIDADE PARA ALUNOS SEM ACESSO A INTERNET.



1. QUANTOS SAQUINHOS DE PIPOCA TEM NA IMAGEM?

A) 9

B) 4

C) 2


D) 7

A) 5

B) 2

C) 7

D) 10




2. QUANTOS MILHOS TEM NA IMAGEM?

A) 7

B) 10

C) 4

D) 8



3. QUANTOS BIGODE TEM A IMAGEM?


4. QUANTAS BARRACAS TEM NA IMAGEM?

A) 5

B) 3

C) 8

D) 4



5. QUANTOS VESTIDOS TEM NA IMAGEM?

A) 9

B) 3

C) 12

D) 1


6. QUANTOS MENINOS CAIPIRAS TEM NA IMAGEM?

A) 10

B) 6

C) 5

D) 8



7. QUANTAS FOGUEIRAS TEM NA IMAGEM?

A) 9

B) 7

C) 3

D) 10


8. QUANTAS MENINAS CAIPIRAS TEM NA IMAGEM?

A) 4

B) 2

C) 5

D) 3



9. QUANTOS CHAPÉUS TEM NA IMAGEM?

A) 5

B) 7

C) 6

D) 10


10. QUANTOS BALÕES TEM NA IMAGEM

A) 9

B) 5

C) 8

D) 11



PARABÉNS!!! VOCÊ COMPLETOU A ATIVIDADE. 🙌🙌